

令和3年度 第1回  
入学試験問題

社 会

注 意

1. 答えはすべて解答用紙の定められたらんに記入しなさい。  
記入方法を誤ると得点になりません。
2. 試験時間は30分です。

問題は次のページから始まります。

別紙の地形図を見て、各問に答えなさい。

和洋国府台女子中学校では毎年、夏休みの林間学校で福島県を訪れます。  
磐梯山の登山をしたり、猪苗代湖の近くで作物の収穫体験をしたり、福島県の自然とふれあう機会がたくさん盛りこまれたプログラムです。登山や収穫体験を終えて、林間学校はいよいよ最終日となりました。

麗子 昨日の収穫体験、楽しかったね。

文絵 農場のおじさんが、福島県の農業についてもくわしく教えてくれたよね。

麗子 一昨日の登山でくたくただったけど、新鮮な食材を使った料理を食べたら、とても元気が出てきたよ！

文絵 もう、麗子は本当に食いしん坊なんだから。

麗子 てへへ。今日はこれから、まず飯盛山に行くんだよね。

文絵 そうだね、授業で白虎隊のドラマを見たから、隊士たちが命を落とした場所に行くのは、感慨深いね。

飯盛山では現地のガイドさんが、白虎隊のことや戊辰戦争のことを、くわしく説明してくれました。

飯盛山の見学を終えた生徒たちは、バスに乗り込み、会津若松市の市街地へと向かいます。

麗子 私たちくらいの歳の人たちが戦争に参加して命を落としたと思うと、何だかとても気の毒だね。

文絵 飯盛山からお城が燃えているように見えたよ、ガイドさんが言っていたね。

平和がとても大切なことだと、改めて感じたよ。

麗子 私、会津若松市に来るのは初めてなんだけど、とても歴史を感じさせる街だね。

文絵 次の見学地では、福島県の歴史に関するものをたくさん見学できるみたいだよ。

飯盛山から会津若松駅方面へと進んだバスは、駅前で左折し国道を進みました。

この道の両側の馬場本町、大町には数多くの  がありました。

左側に郵便局のある交差点を通り過ぎると、道路の左側にはいくつもの公共の施設が集まっています。

お城の手前の交差点で左折して、お城を右側に見ながら通り過ぎたところにある

を訪れ、福島県の歴史に関する数々の展示品を見学したり、むかしのおもちゃで遊んだりしました。

麗子 むかしのおもちゃって、意外と楽しかったね。

私はいつも、家でゲームばかりしてるけど、けん玉とかベーゴマも結構おもしろいね。

文絵 そうだね。私はむかしの人が身に付けていた着物を着ることができて、楽しかった。

麗子 次はいよいよお城だね。私、お城に入るのは初めてだよ。

文絵 私は家族と一緒に一度訪れたことがあるけど、これから向かうお城は、戊辰戦争の時に壊されてしまったものを、地元の人たちの努力で再建したのだそうよ。天守閣からの眺めは最高だったよ。

麗子 私も天守閣に登ってみたいー！

文絵 じゃあ、あとで一緒に登ってみようよ！

麗子 やったー！

天守閣の最上階に登った二人は、晴れ渡った天気の中で、会津若松の街並みを眺めました。

麗子 あそこに見えるのは、さっき訪れた飯盛山だね。

文絵 そうだね、ここからは  の方角だね。

麗子 会津若松の街並みやそのまわりまでよく見えるね。  
 今日で林間学校も終わっちゃうね、もっとこの街のことを知りたいな。

文絵 そうだね、大人になったらまた一緒に来ようよ。

麗子 いいね、来よう来よう、約束だよ。昨日、ホテルの従業員さんから聞いたんだけど、  
 となりの喜多<sup>きた</sup>方市<sup>かた</sup>はラーメンが有名らしいよ。次に来るときは、喜多方ラーメンも食べてみようよ！

文絵 もう、本当にあなたは食いしん坊なんだから！

中学生の二人にとっては、大変思い出深い林間学校になったようです。

問1 、 にあてはまる施設を、地図記号を参考にして答えなさい。

問2  にあてはまる方位を8方位で答えなさい。

問3 福島県についてもっとも適した説明を、次のア～エの中から一つ選び、記号で答えなさい。

- ア 入りくんだ海岸の沿岸部では漁業がさかんにおこなわれてきたが、造船業などの工業も発達した。今から30年ほど前には、県南部に位置する活火山<sup>ふんか</sup>が噴火し、大規模な火砕流<sup>かさいりゅう</sup>による被害<sup>ひがい</sup>で、多くの人びとが家を失ったり命を落としたりした。
- イ 沿岸部に造成された埋立地<sup>うめたてち</sup>では、大型のタンカーが利用できる港がつけられ、輸入された石油を原料とする化学工業や金属工業が発達した。一昨年の台風のために県南部では多くの家屋が被害を受け、住民たちは避難生活<sup>ひなん</sup>をしいられた。
- ウ 高速道路による交通の便のよさから工業団地がつけられ、多くの工場が誘致された。沿岸部では古くからの沖合漁業に加え、原子力発電所も建設されたが、10年前の大地震<sup>おおじしん</sup>のときには津波を原因とする事故が発生し、現在も多くの住民が避難をしいられている。
- エ リアス海岸が広がる沿岸部では、湾内のおだやかな海面を利用して、真珠<sup>しんじゆ</sup>の養殖<sup>ようしよく</sup>がおこなわれてきた。また、大規模な石油化学コンビナートがつけられたが、約60年前には超大型の台風におそわれ、数千人の犠牲者にみまわれた。

問4 飯盛山からお城までの距離<sup>きより</sup>は、地図上では15cmでした。実際の距離を答えなさい。

問5 いくつもの公共の施設にあてはまらないものを、次のア～エの中から一つ選び、記号で答えなさい。

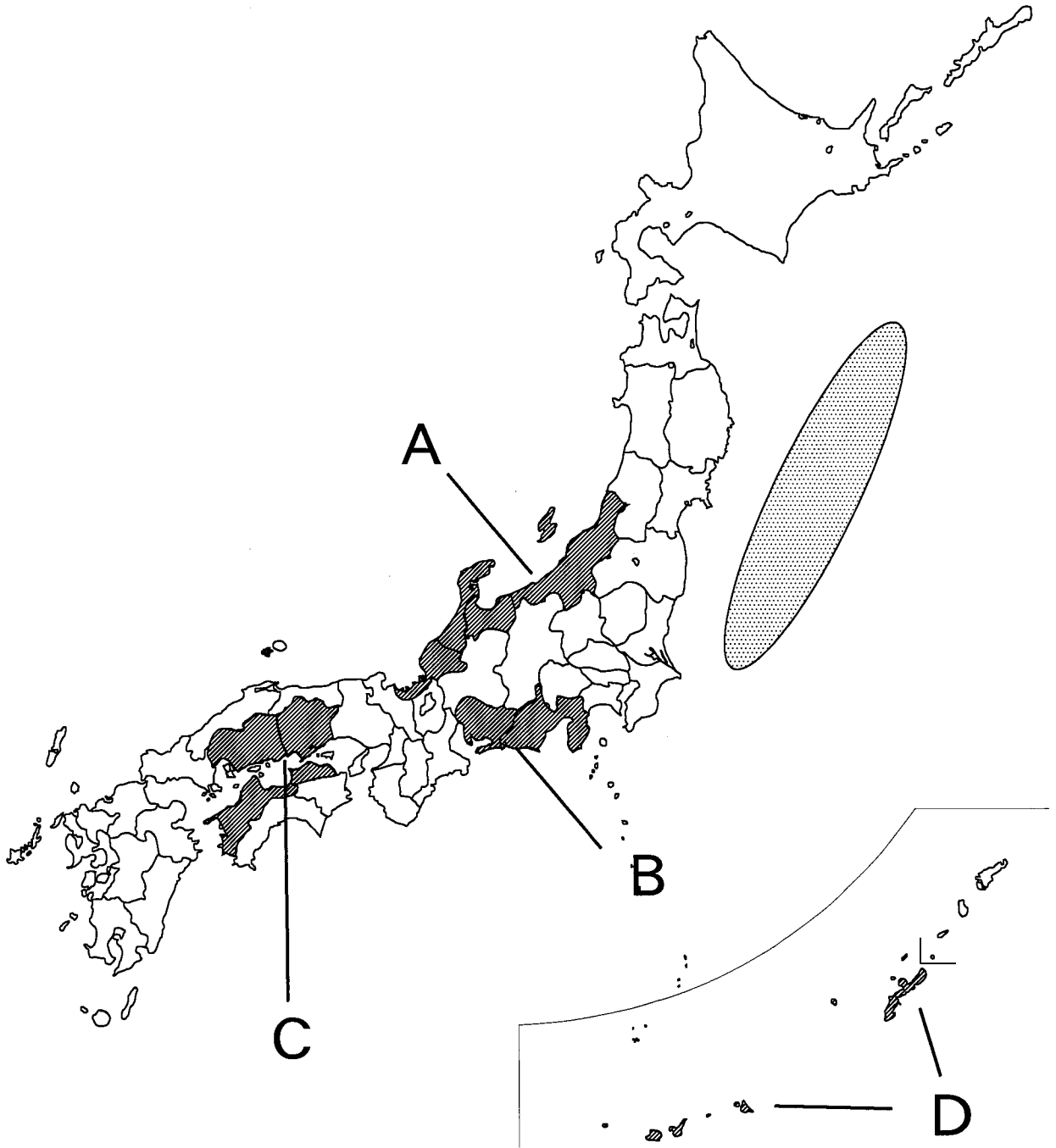
ア 裁判所    イ 市役所    ウ 図書館    エ 病院

問6 会津若松の街並みやそのまわりについて正しいものを、次のア～エの中から一つ選び、記号で答えなさい。

- ア 警察署と消防署からもっとも近い距離にある駅は、いずれも七日町駅である
- イ このあたりは、江戸時代には城下町として、大名が支配していたと考えられる
- ウ この地形図が示す範囲<sup>はんい</sup>の中で、もっとも標高の高い地点は、飯盛山の山頂である
- エ 湯川放水路の兩岸の土地は、その大半が果樹園<sup>かじゆえん</sup>として利用されている

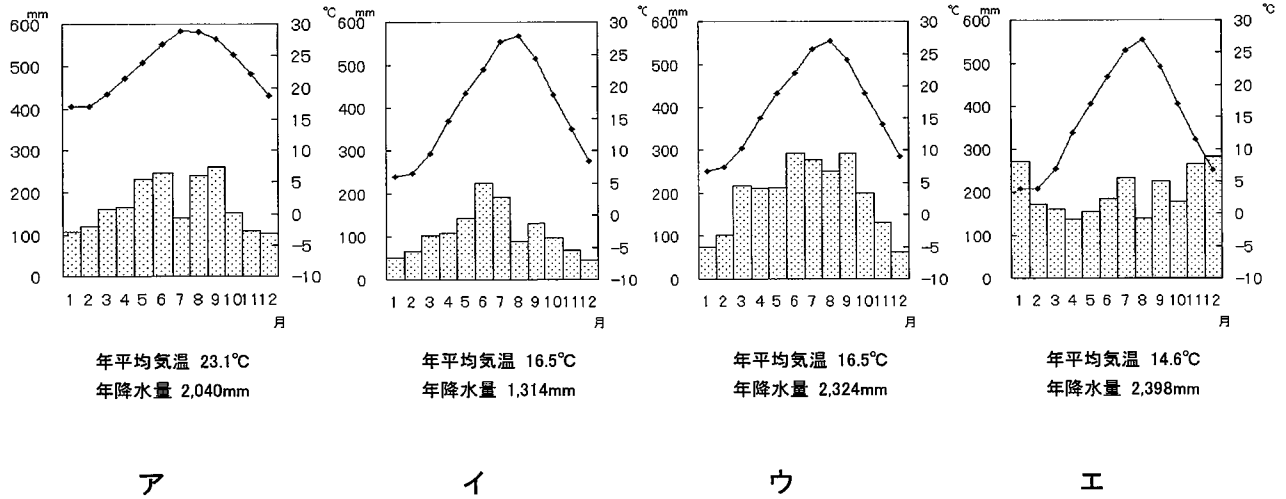
2

次の地図を見て、各問に答えなさい。




問1 次のグラフは、地図中のA～Dの中にある都市の気温、降水量を表しています。

このうち、A、Bにあてはまるものを、ア～エの中からそれぞれ一つずつ選び、記号で答えなさい。



『理科年表』(1981～2010)より作成

問2 地図中の  について正しいものを、次のア～エの中から一つ選び、記号で答えなさい。

- ア <sup>つしま</sup> 対馬海流に乗ってサケが北上する
- イ 黒潮とリマン海流の潮目ができる
- ウ <sup>ちしま</sup> 千島海流にのってマグロが南下する
- エ 黒潮と千島海流の潮目ができる

問3 生徒たちが社会の授業で、日本各地について調べ、発表しました。

次の発表メモは、地図中A～Dの地域を説明したものです。各問に答えなさい。

**A**は、お米の産地です。この地域の米づくりには、春に水量の増える大きな川の水を利用して使います。また、お米を原料とした米菓や日本酒の生産もさかんです。米づくりのできない冬の産業として、さまざまな伝統的な工業製品が生み出されました。


**B**は、自動車の生産がさかんな地域です。東京と大阪を結ぶ新幹線や高速道路が通っていて、日本の交通の大動脈にもなっています。また、沿岸には、水あげ量の多い漁港があります。

**C**は、大小3000ほどの島があるところでは、このあたりでは、古代から人々の活動が活発に行われていました。また、この地域では気候をいかして、かんきつ類やぶどう・ももなどの果物を栽培しています。

**D**は、テレビの旅行番組でもよく紹介される地域です。青い海と、サンゴや貝がらがくだけてできた白い砂浜に、たくさんの観光客が訪れます。また、気候を利用した農業がおこなわれています。しかし、台風のため大きな被害を受けることがあります。

(1) 伝統的な工業製品について、Aの地域にあてはまらないものを、次のア～エの中から一つ選び、記号で答えなさい。

ア



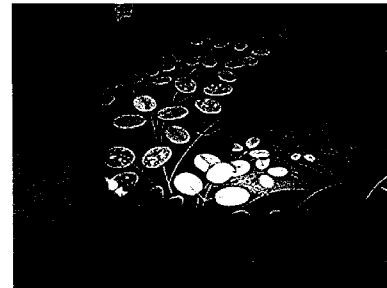
イ



ウ



エ



(2) 自動車の生産がさかんな地域について、Bの地域にあてはまらないものを、次のア～エの中から一つ選び、記号で答えなさい。

- ア <sup>よつ かいち</sup> 四日市の石油化学工場からプラスチック部品の原料が供給されています
- イ <sup>な ご や</sup> 名古屋港から自動車運搬船<sup>うんぱんせん</sup>を利用して世界各地<sup>しゆつか</sup>に出荷されています
- ウ <sup>とうじき</sup> 陶磁器技術を応用して開発した素材が、自動車部品に生かされています
- エ この地域の自動車工場のほとんどでは、地熱発電が利用されています

(3) 人々の活動について、Cの地域にあてはまらないものを、次のア～エの中から一つ選び、記号で答えなさい。

- ア 本州との交通路に橋がかけられ、移動時間<sup>おおはば</sup>が大幅に短縮された
- イ 波がおだやかなので、カキやタイなどの養殖がさかんにおこなわれている
- ウ 海神をまつる<sup>いつくしま</sup> 厳島神社は世界遺産に登録され、多くの観光客が訪れている
- エ 「日本の屋根」とよばれる高い山々がちなり、夏には登山客でにぎわっている

(4) 気候を利用した農業について、Dの地域にあてはまるものを、次のア～エの中から一つ選び、記号で答えなさい。

- ア 農家一戸あたりの耕地が広く、年ごとに作物をかえる輪作を行っている
- イ 電灯を使って花が咲く時期<sup>き</sup>を調整し、冬にもキクを出荷している
- ウ 夜明け前に収穫されたレタスは、その日のうちに<sup>かんとう</sup> 関東地方の店頭<sup>かんとう</sup>に並べられる
- エ 砂糖の原料となるてんさいの栽培がさかんにおこなわれている



3

次の文を読み、各問に答えなさい。

日本で「将軍」というと、一般的には「征夷大將軍」をさします。しかしその役割は、歴史上で初めて征夷大將軍に任命された大伴弟麻呂から1000年以上続く歴史の中で、時代によって変わっていきました。

奈良時代や平安時代の征夷大將軍は  でした。これらの時代にもっとも有名な征夷大將軍は坂上田村麻呂で、東北地方でおきた反乱をしずめた人物として知られています。東北地方に朝廷の支配がおよぶと、征夷大將軍は任命されなくなりました。

征夷大將軍が再び任命されるのは、平氏や源氏が政治をおこなうようになるなど、武士の力が高まる中でのことでした。平氏をほろぼして幕府を開いたA源頼朝が征夷大將軍に任命されて以降、征夷大將軍は  をあらわすようになります。その一方で、頼朝が死ぬと北条氏が幕府の政治を進めるようになり、将軍は形だけのものになっていきました。

北条氏を中心とした幕府がたおれると、将軍として武士の中心となったのは源氏の一族のB足利尊氏でした。これ以後、将軍の地位は彼の子孫がうけついでいくこととなります。しかし、15世紀になると幕府の支配力はしだいに弱まり、応仁の乱ののちには、全国の武将たちが天下統一を目指して争うようになったことで、将軍の力も失われていきました。

このような中で、最初に天下統一に近づいたのは織田信長でした。しかし、信長は将軍の地位につこうとはせず、室町幕府の将軍足利義昭に副将軍になることをすすめられたときにも、これを断って堺を支配することを希望しました。信長の死後に天下統一をなしとげた豊臣秀吉も将軍にならず、関白として政治を進めました。

足利義昭以来の将軍となったのは、信長や秀吉に協力したC徳川家康でした。家康は将軍となって幕府をひらき、全国の大名を支配する体制をつくり上げました。

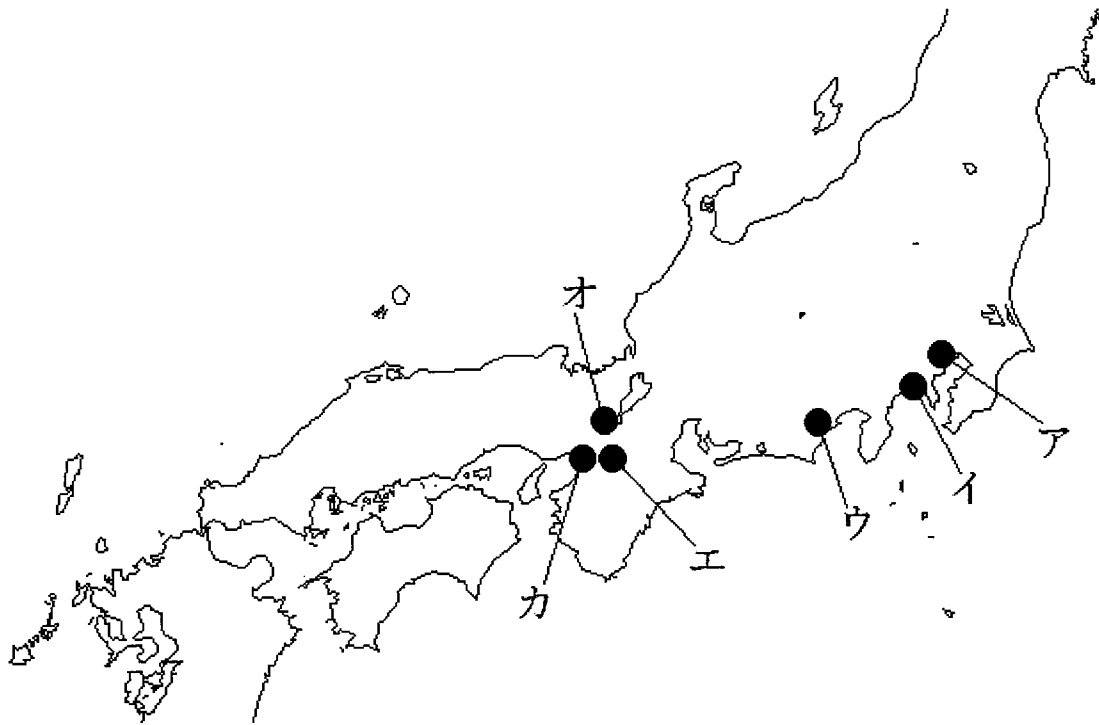
問1  ・  にあてはまる文として正しいものを、次のア～エの中からそれぞれ一つずつ選び、記号で答えなさい。

- ア 蝦夷をたおす軍の総大将の地位
- イ 陸軍をひきいる大将の地位
- ウ 武士をまとめる武家の最高の地位
- エ 天皇の政治をたすける地位

問2 A源頼朝、B足利尊氏、C徳川家康が開いた幕府があった時代の文化を、次のア～オの中からそれぞれ一つずつ選び、記号で答えなさい。

- ア 幕府によって能が保護され、芸術として発展した
- イ 戦いの勝利と幕府の繁栄を願い、鶴岡八幡宮つるがおかはちまんぐうがはんえいつくられた
- ウ 平仮名ひらがなや片仮名かたかなが誕生し、日本風の文化が栄えた
- エ 蘭学を学ぶ人が増え、多くの学問に影響をあたえた
- オ 西アジアなどからもたらされた品々が、正倉院しょうそういんにおさめられた

問3 A源頼朝・B足利尊氏・C徳川家康が幕府を置いた場所を、次の地図中のア～カの中からそれぞれ一つずつ選び、記号で答えなさい。



問4 北条氏は何という役職について幕府で政治をおこないましたか、その役職名を答えなさい。

問5 織田信長が堺を支配したのは、このころの堺がどのような都市だったからでしょうか、説明しなさい。

4

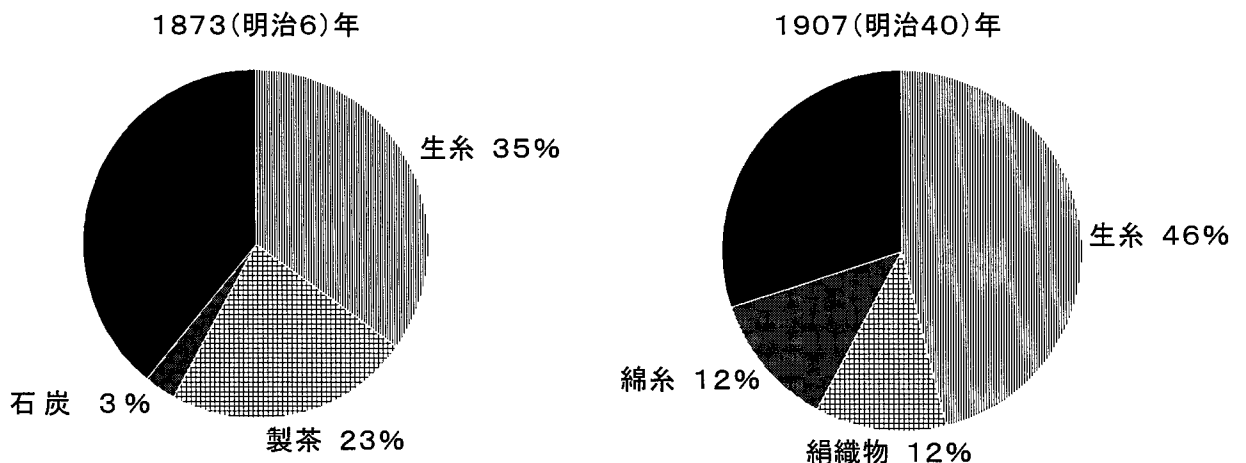
真理子さんは、100年前になくなった人を調べました。その中で薩摩藩出身の前田正名という人に興味を持ち、調べたことを3枚のカードにまとめました。そのカードを読んだ宮崎先生が、カードを利用して問題を作りました。カードを読んで各問に答えなさい。

a フランスに留学したあとフランスの日本領事館に勤めました。日本がヨーロッパに追いつけると実感し、日本の製品を外国に売ることが大切だと考えました。地租改正が始まるときに帰国し、政府の役人となりました。そして、全国をまわり地方の産業をさかんにする努力をし、政府にも意見を出しました。

b 開国した日本は、アメリカやイギリスなどとの貿易を始めることになりました。その後長崎で学び、ほかの藩の出身である坂本龍馬や陸奥宗光と知り合いました。そして薩摩藩と長州藩の同盟がむすばれるときの使者として、長州藩にも行きました。長崎では兄などとともに、英和辞典をつくりました。

c 大日本帝国憲法が公布され、国会が開かれると、天皇から指名されて貴族院議員になりました。日露戦争が始まると戦地を訪れ、状況をみてまわりました。またその後、ヨーロッパへわたり、日本の輸出についての意見書を貴族院に出しました。

問1 日本の製品を外国に売ることについて、次のグラフは1873(明治6)年と1907(明治40)年の輸出額における上位3位までの品物の割合をあらわしたものです。明治時代に日本のおもな輸出品が変化した理由を説明しなさい。



『明治大正国勢総覧』より作成

問2 地租改正のころのできごとではないものを、次のア～エの中から一つ選び、記号で答えなさい。

- ア 全国に小学校がつくられた
- イ <sup>しんばし よこはま</sup>新橋と横浜のあいだで鉄道が開通した
- ウ 身分の制度が<sup>はいし</sup>廃止された
- エ 水道や電気を使う生活が始まった

問3 アメリカやイギリスなどとの貿易について、このときに結ばれた条約を正しく説明したものを、次のア～エの中から一つ選び、記号で答えなさい。

- ア 日本国内で外国人が罪をおかしたら、日本の法律でさばくことができた
- イ アメリカとの条約が結ばれたあと、<sup>ちゆうこく</sup>中国とも同じ内容の条約を結んだ
- ウ 貿易を許された港のなかには、江戸に近い<sup>しもた</sup>下田もあった
- エ 日本は輸入品に税をかけるとき、相手国と話しあって決めた

問4 薩摩藩と長州藩の同盟についての説明として正しいものを、次のア～エの中から一つ選び、記号で答えなさい。

- ア 天皇を中心とする国づくりのため、幕府をたおす力となった
- イ 将軍を中心とする国づくりのため、幕府をささえる力となった
- ウ 海外に軍隊を送るため、幕府の中に新しい軍隊をつくる力となった
- エ 薩摩藩と長州藩を中心とする新しい幕府をつくる力となった

問5 日露戦争の勝利は、日本と<sup>おうべいれつきよう</sup>欧米列強との関係にどのような影響がありましたか、説明しなさい。

問6 3枚のカードを時代の古い順にならびかえたものを、次のア～カの中から一つ選び、記号で答えなさい。

- ア a → b → c
- イ a → c → b
- ウ b → a → c
- エ b → c → a
- オ c → a → b
- カ c → b → a

5

次の文を読み、各問に答えなさい。

日本では毎年、戦争が終結した8月になると各地で平和の式典がおこなわれます。平和な社会を願い、多くの人々が参加して戦争のない社会を祈ります。けれども、近年では、戦争がなければ平和で安全であるとは言い切れない状況が続いています。その一つは自然災害です。昨年は、九州・中部地方で発生した集中豪雨によって多くの人々が被害を受けました。また、感染症の恐怖もあります。新型コロナウイルス感染症の拡大は多くの生命を奪っています。そして、感染予防のために通常の仕事ができない人が多くいました。そのため、政府は税金の中から新型コロナウイルス対策費を支出して、国民生活を守ろうとしています。

このように、平和な社会がどんな社会なのかは、そのときの社会状況によって変わります。私たちは状況に応じて、自分たちの安全や権利、生活が守られる社会を実現していかなければなりません。

問1 平和の式典について、昨年の8月6日に広島で行われた式典には83か国の代表者が出席しました。この日に平和の式典が広島でおこなわれるのはなぜですか。その理由を考えて、次の文を完成させなさい。

広島は世界のなかでも  から。

問2 自然災害について、以下の文の  ① ~  ③ にあてはまる言葉の組み合わせとして正しいものを、次のア～カの中から一つ選び記号で答えなさい。

昨年の7月、熊本県を中心に発生した集中豪雨は、土砂崩れや川の氾濫を引き起こし、次々と家屋のみ込みました。災害対策本部が設置され、他の県から  ① の出動を要請して救命救出活動がおこなわれました。災害状況の大きさから  ② は自衛隊の派遣を要請し、陸上自衛隊が人命救助活動に取り組みました。また国は  ③ の定めにもとづいて、県と協力して避難所を開設しました。

- |   | ①       | ②   | ③      |
|---|---------|-----|--------|
| ア | ボランティア  | 市町村 | 大雨特別警報 |
| イ | 緊急消防援助隊 | 市町村 | 大雨特別警報 |
| ウ | ボランティア  | 市町村 | 災害救助法  |
| エ | 緊急消防援助隊 | 県   | 災害救助法  |
| オ | ボランティア  | 県   | 防災会議条例 |
| カ | 緊急消防援助隊 | 県   | 防災会議条例 |

問3 税金について、各問に答えなさい。

- (1) 税金について書かれた①～③のカードと、その税金の名前の組み合わせとして正しいものを、下のア～カの中から一つ選び、記号で答えなさい。



	① しよとくぜい 所得税	② しようひ 消費税	③ ほうじん 法人税
ア	所得税	消費税	法人税
イ	所得税	法人税	消費税
ウ	消費税	所得税	法人税
エ	消費税	法人税	所得税
オ	法人税	所得税	消費税
カ	法人税	消費税	所得税

- (2) 税金の使い方について、内閣が予算案を作成しますが、その予算を最終決定するのは国会です。なぜ最終決定は国会議員がおこなうのか、その理由を簡単に書きなさい。

問4 権利について、各問に答えなさい。

- (1) 日本国憲法で定められている基本的人権にあてはまらないものを、次のア～エの中から一つ選び、記号で答えなさい。

- ア 国民は、自分の生活が健康で文化的であるように、国から支援される
- イ 国民は、自分の生活が豊かになるように、仕事について働くことが認められている
- ウ 国民は、自分の権利が侵害されないように、法律が憲法に違反していないか審査できる
- エ 国民は、自分の権利が侵害されたときに、裁判所で裁判を受けることができる

- (2) 幼稚園児と成人男性が競走をします。どのように競走することが公平だと考えますか。次のAまたはBのどちらか一つ選び、それがなぜ公平であるかを説明しなさい。

- A 幼稚園児と成人男性は同じ位置からスタートして、同じゴールに向かって走る
- B 幼稚園児のスタートの位置は、成人男性よりもゴールに近い位置にして、同じゴールに向かって走る



# 令和3年度 第1回 社会解答用紙

1	問1	1		2	
---	----	---	--	---	--

問2	3		問3	
----	---	--	----	--

問4		m	問5		問6	
----	--	---	----	--	----	--

2	問1	A		B		問2	
---	----	---	--	---	--	----	--

問3	(1)		(2)		(3)		(4)	
----	-----	--	-----	--	-----	--	-----	--

3	問1	1		2	
---	----	---	--	---	--

問2	A		B		C	
----	---	--	---	--	---	--

問3	A		B		C		問4	
----	---	--	---	--	---	--	----	--

問5								
----	--	--	--	--	--	--	--	--

受験 番号		氏名		得点	
----------	--	----	--	----	--

4

問1

[Empty box for question 1]

問2

[Empty box for question 2]

問3

[Empty box for question 3]

問4

[Empty box for question 4]

問5

[Empty box for question 5]

問6

[Empty box for question 6]

5

問1

[Empty box for question 1] から。

問2

[Empty box for question 2]

問3

(1) [Empty box for question 3]

問3

(2) [Empty box for question 3]

問4

(1) [Empty box for question 4]

(2)

A . B 選んだ方に○をつけなさい

[Large empty box for question 5, question 4 part 2]



# 令和3年度 第1回 社会解答用紙

1	問1	1	寺院	2	博物館
---	----	---	----	---	-----

問2	3	北東	問3	ウ
----	---	----	----	---

問4	3750	m	問5	工	問6	イ
----	------	---	----	---	----	---

2	問1	A	工	B	ウ	問2	工
---	----	---	---	---	---	----	---

問3	(1)	イ	(2)	工	(3)	工	(4)	イ
----	-----	---	-----	---	-----	---	-----	---

3	問1	1	ア	2	ウ
---	----	---	---	---	---

問2	A	イ	B	ア	C	工
----	---	---	---	---	---	---

問3	A	イ	B	オ	C	ア	問4	執権
----	---	---	---	---	---	---	----	----

問5	<p>(例) 貿易がさかんな都市であったから。</p> <p>(武器製造都市、商業都市 など)</p>					
----	---	--	--	--	--	--

受験 番号		氏名		得点	
----------	--	----	--	----	--

4

問1

(例) 近代化(機械化、工業化、産業革命)が進んだから。

問2

エ

問3

エ

問4

ア

問5

(例) 欧米列強が日本の力を認めた

問6

ウ

5

問1

(例) 初めて原爆が落とされた場所である

から。

問2

エ

問3

(1)

オ

問3

(2)

(例) 国会議員は国民が選挙で選んだ代表者だから。

問4

(1)

ウ

A . B 選んだ方に○をつけなさい

(2)

A:(例) 競走する人がみな同じ距離を走ることが公平であるから。

B:(例) 競走する人がみな勝つ可能性があるということが公平であるから。